

## ZEMEPISNÉ HÁDANKY 8.

2. časť

### Čo je to? Kde je to?

Hlavnou úlohou je prísť na to, čo sa nachádza na obrázku, resp. kde sa geografický útvar nachádza. Môže to byť názov pohoria, rieky, štátu atď.

Ku každému obrázku dostaneš pomôcku.

Prvá pomôcka: môžeš si pomáhať atlasom 😊

Zdroj: Pixabay

### Najchladnejšie hlavné mesto na svete



1.

Zdroj obrázka: Pixabay

**Pomôcka:  
jurta**



Zdroj: Pixabay

**1.**

**Názov polostrova**



Snímka získaná z Vesmírnej stanice ISS, 2016

Zdroj: NASA

**2.**

## Pomôcka: štát z iného kontinentu



2.

Zdroj: Pixabay

## 2. najrozsiahlejšia náhorná plošina na Zemi



3.

Zdroj: NASA


## Pomôcka: najdrahšia vlna na svete



3.

Zdroj: Pixabay

## Pohorie v Afrike




4.

Zdroj: Pixabay

**Pomôcka:**  
úvodná snímka hádanky 😊



**Názov ázijského polostrova**



Zdroj: ESA (vľavo), NASA (vpravo)




**Pomôcka: sopky, gejzíry, horúce pramene...**



**5.**

Zdroj: Pixabay

**BONUS: Európsky štát**



**Pomôcka:**

**6.**

Zdroj: Google Earth, Pixabay